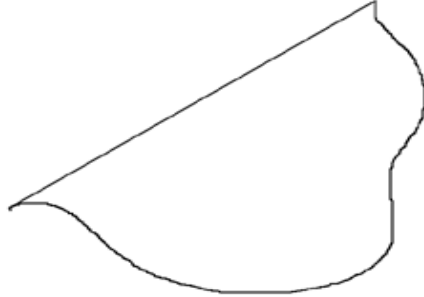
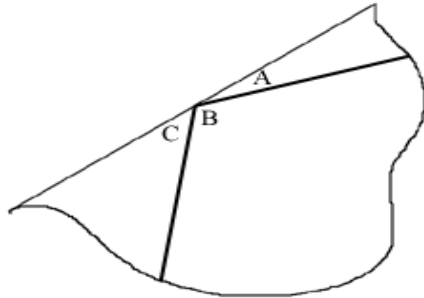


Activité de construction.

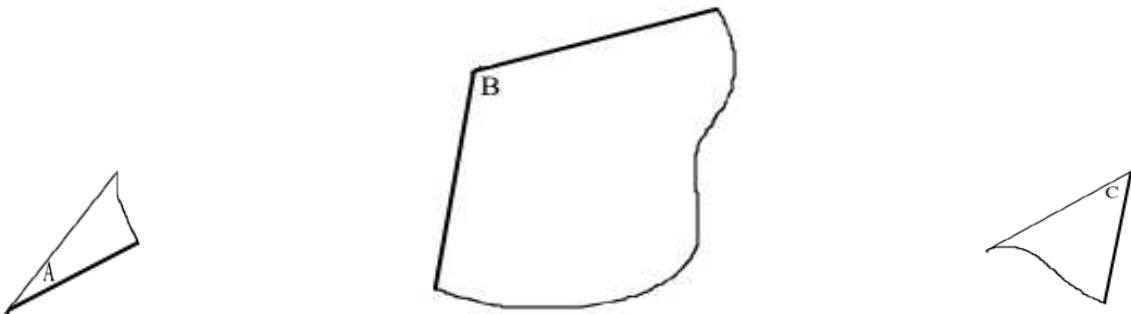
- 1 Déchirer une feuille de papier de telle sorte de garder un bord droit.



- 2 Tracer 2 demi-droites délimitant 3 secteurs angulaires quelconques A, B, C.



- 3 Découper ces trois secteurs.



- 4 Construire un triangle en utilisant les 3 secteurs angulaires.

